



Inhaltsverzeichnis



Hinweise zum Aufbau der „Einstieg in die Zahlenwelt“-Reihe

2

Mein Zahlenheft 7a

3

Mein Zahlenheft 7b

10

Mein Zahlenheft 7c

17

Lernzielkontrolle zu „Mein Zahlenheft“ – Stufe 7

24

Mein Zahlenheft 8a

26

Mein Zahlenheft 8b

33

Mein Zahlenheft 8c

40

Lernzielkontrolle zu „Mein Zahlenheft“ – Stufe 8

47



6

Rechne.

● ● ● ● ● ● ● ● ● ●

$2 + 4 = 6$

● ● ● ● ● ● ● ● ● ●

$\square + \square = \square$

● ● ● ● ● ● ● ● ● ●

$\square + \square = \square$

● ● ● ● ● ● ● ● ● ●

$\square + \square = \square$

● ● ● ● ● ● ● ● ● ●

$\square + \square = \square$


● ● ● ● ● ● ● ● ● ●

$\square + \square = \square$

● ● ● ● ● ● ● ● ● ●

$\square + \square = \square$

● ● ● ● ● ● ● ● ● ●

 $\square + \square = \square$




13

Trage ein.



7	8	9
	2	
	9	
	4	

	6	
	3	
	5	
	1	



3 Zähle.  Rechne.



$4 + 5 = \square$

$\square + \square = \square$

$\square + \square = \square$





$\square + \square = \square$


$\square + \square = \square$

 $\square + \square = \square$


BVK • Pakulat/Thomas: Einstieg in die Zahlenwelt: Erste Addition Band 4




10  Male an und  ergänze.




$3 + \square = 10$




$6 + \square = 10$



$2 + \square = 10$



$5 + \square = 10$



$\square + \square = 10$

BVK • Pakulat/Thomas: Einstieg in die Zahlenwelt: Erste Addition Band 4

2



Setze fort.

--	--	--	--	--	--	--	--

--	--	--	--	--	--	--	--

--	--	--	--	--	--	--	--



--	--	--	--	--	--	--	--

BVK • Pakulat/Thomas: Einstieg in die Zahlenwelt: Erste Addition Band 4



9



Setze > oder < oder = ein.

kleiner <	gleich =	größer >
--------------	-------------	-------------

4 8

4 6

10 1

6 6

7 8

9 6

7 6

10 10

8 4

2 9

5 6

13 15

BVK • Pakulat/Thomas: Einstieg in die Zahlenwelt: Erste Addition Band 4