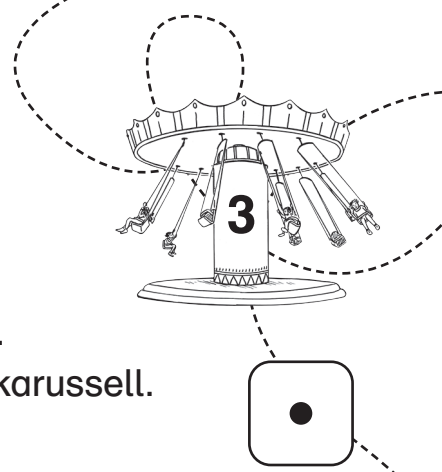


Auf dem Jahrmarkt



Jassin und Elenja gehen mit ihren Eltern auf den Jahrmarkt.
Jassin freut sich auf die Geisterbahn, Elenja auf das Kettenkarussell.



Jassin will zur Geisterbahn.

Er rennt los und ist nicht mehr zu sehen. Oje.

Suche die Geisterbahn auf dem Plan. Welche Zahl hat sie?

Lies bei dieser Zahl weiter.



Elenja hat 3 Euro dabei. Kann sie sich eine

große Zuckerwatte und einen Schokoapfel kaufen?

Schauen auf dem Plan nach.

Ja: Lies bei der Zahl 5 weiter.

Nein: Lies bei der Zahl 10 weiter.



Die Fahrt ist vorbei! Elenja ist froh.

Sie will mit allen zusammen Kettenkarussell fahren.

Suche das Kettenkarussell auf dem Plan.

Welche Zahl steht dort? Lies bei dieser Zahl weiter.



Papa möchte am Schießstand einen Rosenstrauß schießen.

Er kauft 10 Schuss. Er verfehlt nur 1 Mal.

Wie viele Rosen sind in Mamas Strauß?

Rechne. Lies bei der Ergebnis-Zahl weiter.



Schauen noch einmal genau nach.

Eine große Zuckerwatte kostet 2 Euro, ein Schokoapfel
auch 2 Euro.

**Rechne zusammen. Wenn die 3 Euro doch nicht reichen,
lies bei der Zahl 10 weiter.**

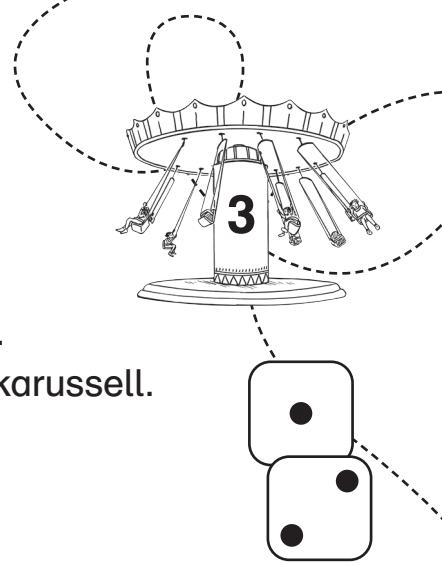


2 Fahrgäste steigen aus. Die anderen dürfen

noch einmal fahren. Wie viele sind sitzen geblieben?

Rechne. Lies bei der Ergebnis-Zahl weiter.

Auf dem Jahrmarkt



Jassin und Elenja gehen mit ihren Eltern auf den Jahrmarkt. Jassin freut sich auf die Geisterbahn, Elenja auf das Kettenkarussell. Sie haben ihr Taschengeld dabei – für Süßigkeiten.



Jassin will zur Geisterbahn. Er rennt gleich los.

Bei den vielen Menschen ist er nicht mehr zu sehen. Oje.

Suche die Geisterbahn auf dem Plan.

Welche Zahl hat sie? Lies bei dieser Zahl weiter.



Elenja hat 3 € dabei. Kann sie sich eine

große Zuckerwatte und einen Schokoapfel kaufen?

Schauen Sie auf dem Plan nach.

Ja: Lies bei der Zahl 5 weiter.

Nein: Lies bei der Zahl 10 weiter.



Die Fahrt ist endlich vorbei! Elenja ist froh.

Jetzt will sie mit allen zusammen Kettenkarussell fahren.

Suche das Kettenkarussell auf dem Plan.

Welche Zahl steht dort? Lies bei dieser Zahl weiter.



Papa möchte am Schießstand einen Rosenstrauß für

Mama schießen. Er kauft 10 Schuss. Er verfehlt nur 1 Mal.

Wie viele Rosen sind in Mamas Strauß?

Rechne. Lies bei der Ergebnis-Zahl weiter.



Schauen Sie noch einmal genau auf den Preisschildern nach.

Eine große Zuckerwatte kostet €, ein Schokoapfel

kostet auch €.

Rechne zusammen. Wenn die 3 € doch nicht reichen,

lies bei der Zahl 10 weiter.

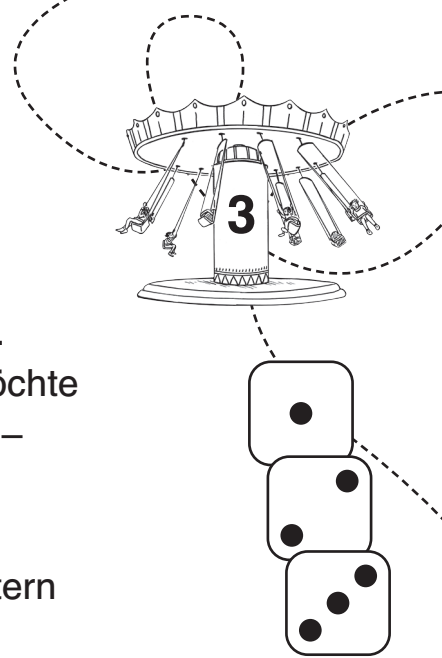


2 Fahrgäste steigen aus. Die anderen dürfen noch

eine Runde fahren. Wie viele sind sitzen geblieben?

Rechne. Lies bei der Ergebnis-Zahl weiter.

Auf dem Jahrmarkt



Jassin und Elenja gehen mit ihren Eltern auf den Jahrmarkt. Jassin freut sich am meisten auf die Geisterbahn, Elenja möchte Kettenkarussell fahren. Beide haben ihr Taschengeld dabei – für Zuckerwatte, Schokoäpfel und andere Süßigkeiten.



Jassin will unbedingt zur Geisterbahn. Bevor die Eltern ausgeredet haben, ist Jassin schon losgerannt.

Bei den vielen Menschen ist er nicht mehr zu sehen. Oje.

Suche Jassin bei der Geisterbahn auf dem Plan.

Welche Zahl hat sie? Lies bei dieser Zahl weiter.



Elenja hat 3 € dabei. Kann sie sich eine große Zuckerwatte und einen Schokoapfel kaufen?

Schaue auf dem Plan nach.

Ja: Lies bei der Zahl 5 weiter.

Nein: Lies bei der Zahl 10 weiter.



Die Fahrt ist vorbei! Elenja ist sehr froh darüber.

Nun will sie mit allen zusammen Kettenkarussell fahren.

Suche das Kettenkarussell auf dem Plan.

Welche Zahl steht dort? Lies bei dieser Zahl weiter.



Papa hat den Schießstand gesehen und möchte Mama gern einen Rosenstrauß schießen. Er kauft 10 Schuss.

Er verfehlt nur 1 Mal. Wie viele Rosen sind in Mamas Strauß?

Rechne. Lies bei der Ergebnis-Zahl weiter.



Schaue noch einmal genau auf den Preisschildern nach.

Eine große Zuckerwatte kostet €, ein Schokoapfel kostet €.

Rechne zusammen. Wenn die 3 € doch nicht reichen, lies bei der Zahl 10 weiter.