



Weihnachten? Nicht hier!

Es gibt viele Menschen auf der Welt, die das Weihnachtsfest nicht feiern, da sie einer anderen Religion angehören.

Doch schon früher, bevor das Christentum entstand, gab es um den 25. Dezember herum Lichterfeste.

So feierten die Germanen die „Heiligen Nächte“ zwölf Tage und Nächte lang mit Umzügen und brennenden Strohrädern, die sie ins Tal rollten. Die Römer feierten für ihren Sonnengott ein Fest. Und die Nordvölker Europas begingen am 21. Dezember die Winter-Sonnenwende. Im Dezember feiern Juden ihr achttägiges Chanukkafest. Bei diesem Fest bekommen die Kinder Geschenke und Chanukkageld; außerdem isst man Sufganiyah, das sind in Öl gebackene und mit Marmelade gefüllte Berliner. Neben dem Singen ist der achtarmige Chanukkaleuchter von zentraler Bedeutung. An jedem Tag wird eine weitere Kerze angezündet.

Chanukka kommt aus dem Hebräischen und bedeutet Einweihung, denn vor mehr als 2 000 Jahren wurde der Tempel in Jerusalem wieder eingeweiht. In einem

dreijährigen Krieg, der geführt wurde, weil die Griechen ihren Glauben als einzige Religion durchsetzen wollten, wurden im Tempel alle kostbaren Dinge zerstört oder gestohlen. Als der Tempel wieder in jüdischer Hand war, wollten die Priester einen Leuchter (die Menora) anzünden. Obwohl das Öl nur für einen Tag reichte, brannte der Leuchter wie durch ein Wunder acht Tage lang.

Die Hinduisten feiern Ende Oktober/Anfang November zu Ehren einiger Götter das Diwali-Lichterfest. Bei diesem Fest trifft man Verwandte und beschenkt sich gegenseitig. Häuser werden bunt geschmückt mit Kerzen, Blumen und Girlanden. Abends lässt man auf dem Ganges, einem heiligen Fluss in Indien, beleuchtete Schiffchen schwimmen. Zum Schluss gibt es noch ein riesiges Feuerwerk.

Nach dem Fastenmonat Ramadan feiern die Muslime drei Tage lang ihr Zuckerfest mit gutem Essen und Geschenken. Außerdem gibt es Musikvorführungen, Tänze, Straßentheater und Jahrmärkte.

Aufgaben:

1. Lies den Text gut durch.
2. Gestaltet in einer Dreier- oder Vierergruppe eine Collage, die die Vielfalt der Lichterfeste deutlich werden lässt. Findet weitere Lichterfeste anderer Völker.
3. Was erinnert bei den Lichterfesten an unser Weihnachtsfest? Besprecht das in eurer Gruppe.





Advents-Suchrätsel

Auf mir stehen 4 Kerzen, man nennt mich

_____.

Eine Kerze besteht hauptsächlich aus

_____.

Am 6. Dezember feiert man den Gedenk-

tag des Heiligen _____.

In Amsterdam, einer Stadt in

_____, wird er ganz be-
sonders freundlich begrüßt.



An diesem Tag stellen Kinder ihre blank

geputzten _____ auf.

In Schweden ist der 13. Dezember ein
besonderer Tag. Man erinnert sich an die

heilige _____.

Am Barbaratag (4. Dezember) gehen
Katholiken in den Garten und schneiden

_____ -zweige ab.

Die Zweige sollen bis _____
blühen.

W	E	I	H	N	A	C	H	T	E	N	Y
R	S	C	Q	P	X	Z	W	A	C	H	S
I	E	G	S	H	J	N	Z	N	L	M	J
A	H	J	T	F	K	I	R	S	C	H	K
X	O	Y	I	T	Y	K	U	W	V	C	B
W	L	Z	E	S	I	O	Z	K	L	T	U
V	L	V	F	R	M	L	U	C	I	A	D
T	A	Y	E	Q	N	A	B	D	F	O	S
I	N	Z	L	P	X	U	P	N	P	Q	R
A	D	V	E	N	T	S	K	R	A	N	Z

Aufgaben:

*Im Buchstabengitter sind waagrecht und senkrecht acht Begriffe zur
Adventszeit versteckt.*

- 1. Markiere sie farbig.*
- 2. Trage sie dann oben in den Lückentext ein.*




Weihnachtsgeschichten



Doch noch ein schönes Weihnachtsfest




Mit dem Weihnachtsmann unterwegs



Chaos am Heiligen Abend



Verschunden auf dem
Weihnachtsmarkt



Besuch beim Christkind



Santa Claus in Nöten

Aufgaben:

1. Wähle ein Bild mit einer Überschrift aus und schreibe eine Geschichte dazu.
2. Stelle deine Geschichte in der Klasse vor.



Weihnachtsbaumverkauf

Förster Kurt und sein Gehilfe gehen auf den Weihnachtsmarkt. Dort verkaufen sie ihre Weihnachtsbäume.

Bäume bis 1,20 m kosten 11 EUR, größere Bäume kosten 17 EUR.

1.



in Wirklichkeit _____ m

Preis _____ EUR


2.



in Wirklichkeit _____ m

Preis _____ EUR

3.



in Wirklichkeit _____ m

Preis _____ EUR

4.



in Wirklichkeit _____ m

Preis _____ EUR

5.



in Wirklichkeit _____ m

Preis _____ EUR

6.



in Wirklichkeit _____ m

Preis _____ EUR

Aufgaben:

1. Miss mit einem Lineal ab, wie groß die Tannen in Wirklichkeit sind (1 cm entspricht 30 cm).
2. Schreibe dann auf, wie viel sie bei Kurt kosten.

