




Fahrrad-TÜV (1)

Du findest unten 20 Bezeichnungen für die einzelnen Teile eines Fahrrades.
 Du sollst nun die 13 wichtigsten Teile zur Verkehrssicherung herausfinden und
 die entsprechenden Nummern in die Kreise  eintragen.
 Die Lösung findest du auf dem Kontrollblatt.



- 1 – Dynamo, 2 – Frontreflektor, 3 – Gepäckträger, 4 – Großflächenreflektor,
 5 – Hinterradbremse, 6 – Kette, 7 – Kettenschutz, 8 – Klingel, 9 – Lenker,
 10 – Luftpumpe, 11 – Pedalreflektoren, 12 – Reifen mit gutem Profil,
 13 – Rückstrahler, 14 – Sattel, 15 – Scheinwerfer, 16 – Schlussleuchte,
 17 – Schutzblech, 18 – Speichenreflektor, 19 – Ventil, 20 – Vorderradbremse

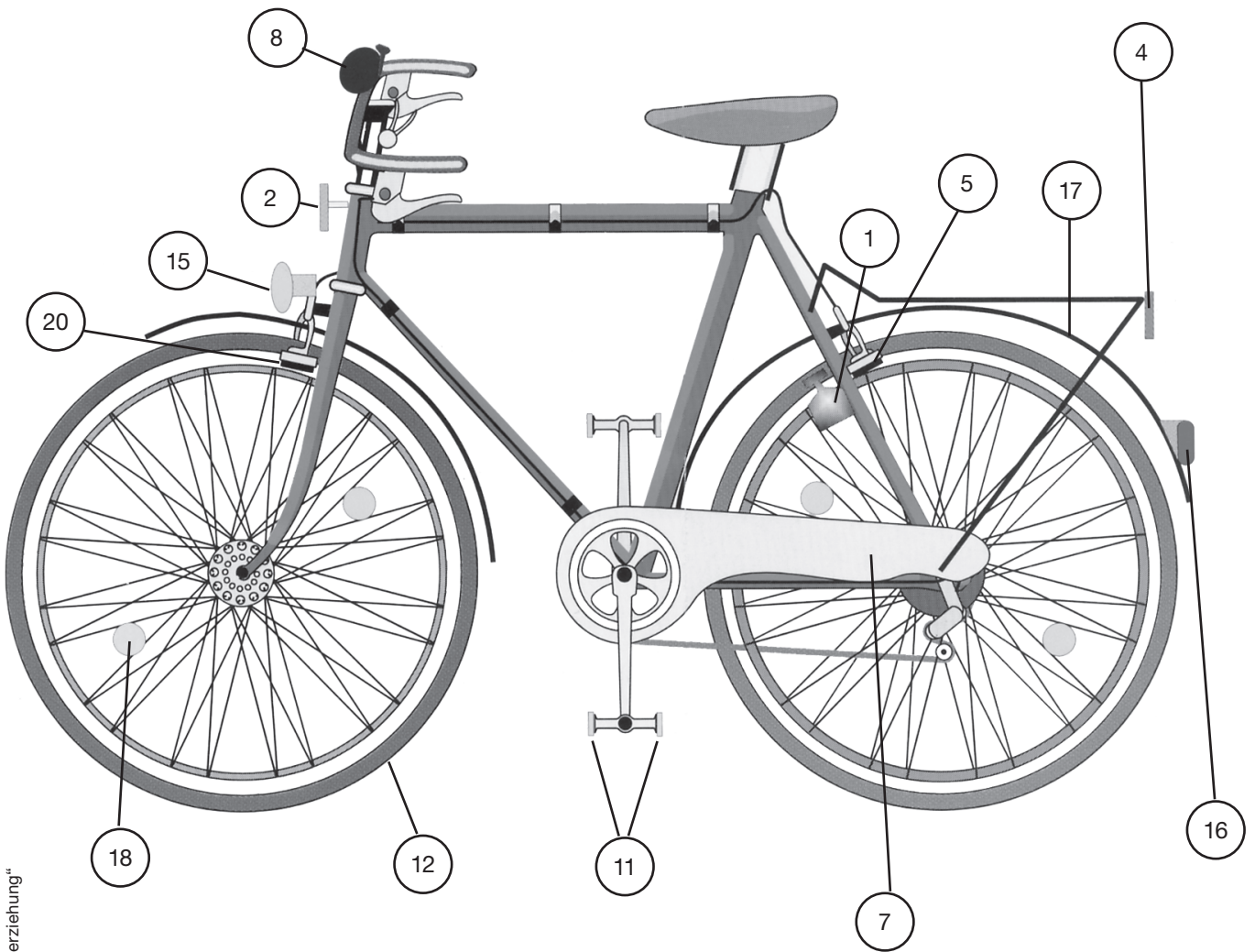


Name: _____

Datum: _____

Fahrrad-TÜV – Kontrollblatt –

9a



BVK LW01 • Eva Kessler: Lernwerkstatt „Verkehrserziehung“

