



VON

# KNOBEL-PASS

- |                            |                            |                            |                            |
|----------------------------|----------------------------|----------------------------|----------------------------|
| <input type="checkbox"/> 4 | <input type="checkbox"/> 3 | <input type="checkbox"/> 1 | <input type="checkbox"/> 2 |
| <input type="checkbox"/> 2 | <input type="checkbox"/> 1 | <input type="checkbox"/> 3 | <input type="checkbox"/> 4 |
| <input type="checkbox"/> 4 | <input type="checkbox"/> 3 | <input type="checkbox"/> 1 | <input type="checkbox"/> 2 |
| <input type="checkbox"/> 2 | <input type="checkbox"/> 1 | <input type="checkbox"/> 3 | <input type="checkbox"/> 4 |
| <input type="checkbox"/> 4 | <input type="checkbox"/> 3 | <input type="checkbox"/> 1 | <input type="checkbox"/> 2 |
| <input type="checkbox"/> 2 | <input type="checkbox"/> 1 | <input type="checkbox"/> 3 | <input type="checkbox"/> 4 |
| <input type="checkbox"/> 4 | <input type="checkbox"/> 3 | <input type="checkbox"/> 1 | <input type="checkbox"/> 2 |
| <input type="checkbox"/> 2 | <input type="checkbox"/> 1 | <input type="checkbox"/> 3 | <input type="checkbox"/> 4 |
| <input type="checkbox"/> 4 | <input type="checkbox"/> 3 | <input type="checkbox"/> 1 | <input type="checkbox"/> 2 |
| <input type="checkbox"/> 2 | <input type="checkbox"/> 1 | <input type="checkbox"/> 3 | <input type="checkbox"/> 4 |



Mathe-Mix

Alltagsknobelei

Buchstabensalat

Schau genau

Zahlenzauber

Ansichten

Kilo, Liter und Co

Mal doch mal  1  2

3  4

Körper



1  2

3  4

Wahr und falsch

1  2

3  4

Lückenfüller

1  2

3  4

Rechengeschichten

1  2

3  4

Wie viele Möglich-  
keiten gibt es?

1  2

3  4

Denksport

1  2

3  4

Schätz doch mal

1  2

3  4

Würfel-Kunstwerke

1  2

3  4

Kopfnüsse

1  2

3  4

Zahlenrätsel

1  2

3  4

Logisch

1  2

3  4

Lieblingszahlen

1  2

3  4

Mix-Max



1  2

3  4

## Kopfnüsse 1

Aron, Berta, Carl, Dina und Eva haben ein Wettrennen gemacht.  
Das sind die Ergebnisse:

Aron: eine  $\frac{3}{4}$  Stunde

Berta: 47 Minuten

Carl: 34 Minuten

Dina: eine halbe Stunde

Eva: 5 Minuten weniger als eine Stunde




**Ordne die Namen der Kinder so der Reihe nach, wie sie ins Ziel gekommen sind.**

## Kopfnüsse 2

In der Klasse 4b sind 28 Kinder. 10 der Kinder spielen Fußball, 8 der Kinder reiten. 16 Kinder aus der Klasse spielen weder Fußball, noch reiten sie.

**Wie viele Kinder spielen Fußball und reiten auch?  
Schreibe den richtigen Buchstaben auf.**

- (A) 16
- (B) 12
- (C) 6
- (D) 4
- (E) 10



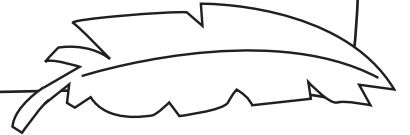
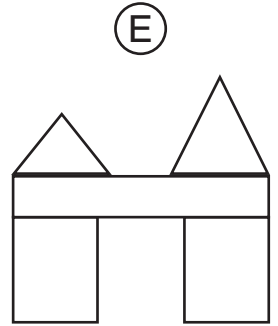
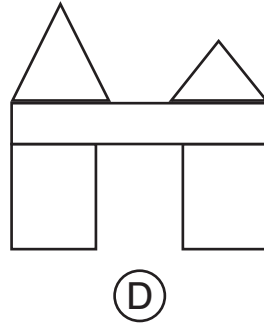
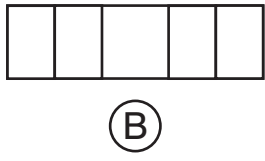
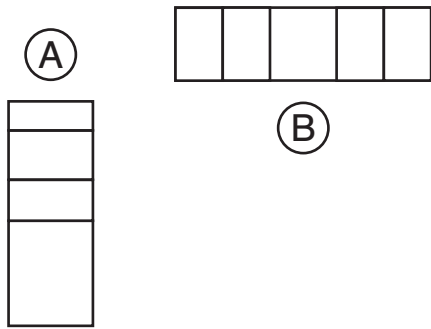
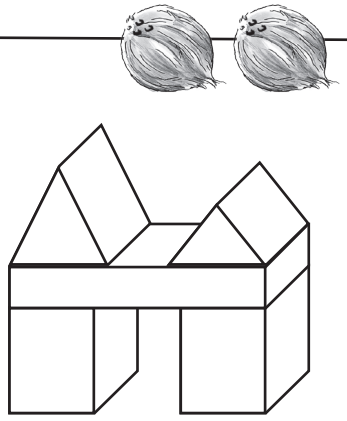
Wie viele Kinder aus der Klasse treiben Sport?  
Vergleiche diese Zahl mit den Kindern,  
die Fußball spielen und reiten.

## Ansichten 3

Milla hat Bauklötze aufeinandergestellt. Von wo schaut sie sich die Bauklötze an?

Ordne jedem Buchstaben eine Zahl zu.

- ① von links    ② von rechts    ③ von oben  
 ④ von hinten    ⑤ von vorn




## Ansichten 4


Jacob fährt mit seinem Fahrrad um den Spielplatz. Dabei schießt er vier Fotos. Welches Foto hat er von welcher Position

(1, 2, 3, 4) gemacht?


Ordne jeder Zahl einen Buchstaben zu.



A



B



C



D

