




# Mix-Max 1

Der Affe hat Geburtstag. Der Hund, 2 Katzenkinder mit ihrer Katzenmama, eine Ameise und eine Spinne besuchen ihn. Beim Waffelessen sind die Katzenkinder dem Hund zu laut und er geht. Zum Abendessen kommen noch das Schaf und 2 Wellensittiche dazu.

- a) **Wie viele Beine zählt der Affe beim Abendessen unter dem Tisch?**
- b) **Wie viele Geburtstagsgäste waren den Tag über insgesamt bei dem Affen?**



# Mix-Max 2

Frau Rose hat an ihrem Schlüsselbund 5 Schlüssel.

**Welcher Schlüssel passt in welches Schlüsselloch?**

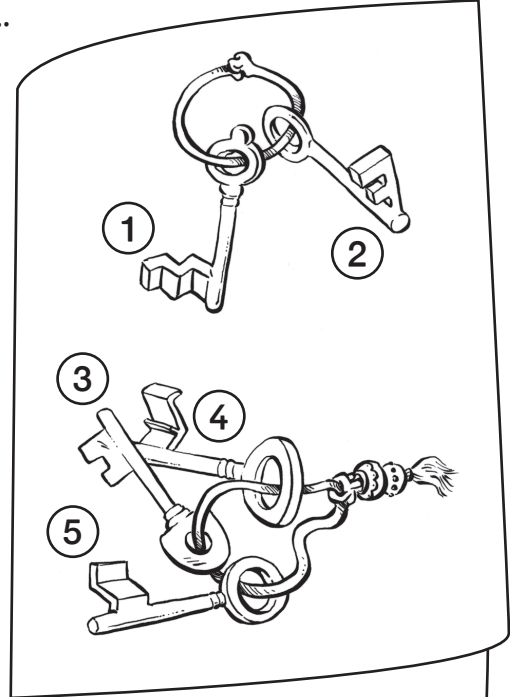
(A)

(B)

(C)

(D)

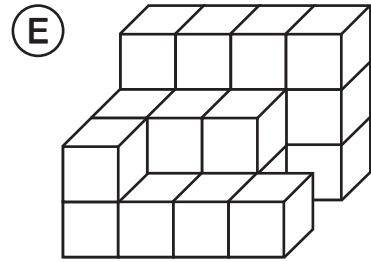
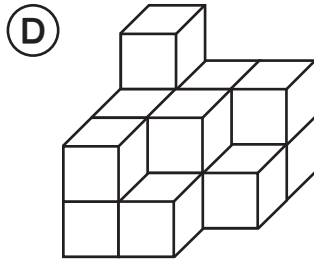
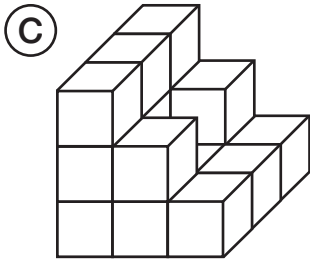
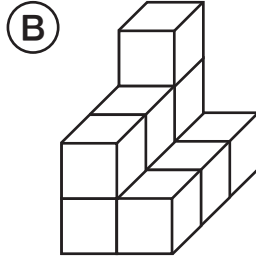
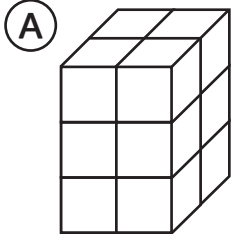
(E)



## Kunstwerke 1

Timo hat mit Würfeln kleine Kunstwerke gebaut.



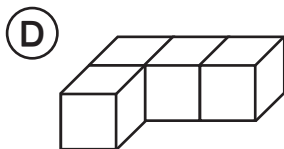
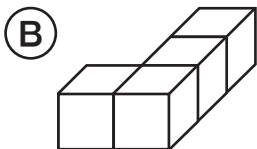
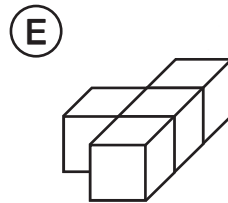
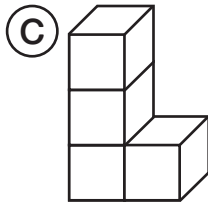
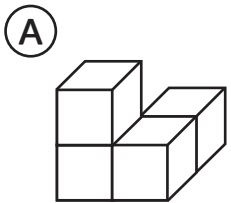
Wie viele Würfel hat er jeweils verwendet?



## Kunstwerke 2

Toni hat *Vierlinge* aus kleinen Würfeln zusammengeklebt.

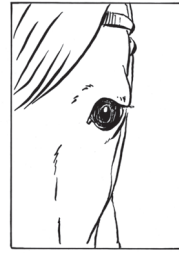

Welche der Vierlinge sind gleich?  
Schreibe die zugehörigen Buchstaben auf.



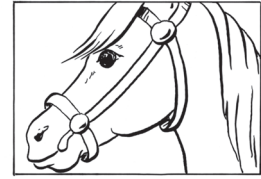


## Fotografie 3

Ali, Ben, Carl und Lina fotografieren ein Pferd. **Wer hat welches Foto gemacht? Ordne jedem Namen eine Zahl zu.**



1



2



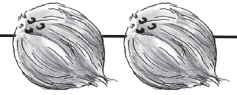
4



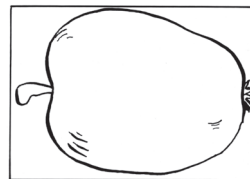
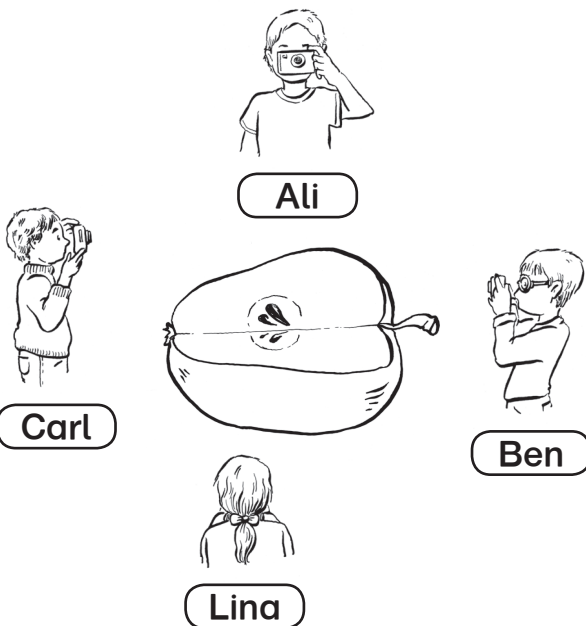
3



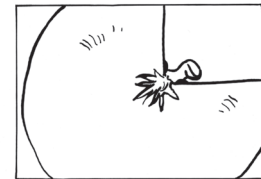
## Fotografie 4



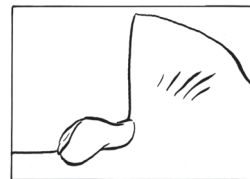
Welches Foto haben jeweils Ali, Ben, Carl und Lina gemacht?  
**Ordne jedem Namen eine Zahl zu.**



1



2



3



4

